

実戦演習

高3 英語リスニング 第2回



English 英語



英 語 (リスニング)

(解答番号 ~)

第1問 (配点 25) 音声は2回流れます。

第1問は **A** と **B** の二つの部分に分かれています。

A 第1問**A**は問1から問4までの4問です。英語を聞き、それぞれの内容と最もよく合っているものを、四つの選択肢 (①～④) のうちから一つずつ選びなさい。

問1

- ① The movie will be over at two o'clock.
- ② The movie will end at five o'clock.
- ③ The movie will last about three hours.
- ④ The movie will start at three thirty.

問2

- ① Julie decided to study math hard just before the exam.
- ② Julie failed the exam and decided to study math hard.
- ③ Julie studied math hard but she failed the exam.
- ④ Julie studied math harder before than she does now.

問3 3

- ① The speaker behaves appropriately as Tom's boss.
- ② The speaker doesn't like the way his boss behaves.
- ③ Tom will be the speaker's boss in the near future.
- ④ Tom's way of speaking makes the speaker uncomfortable.

問4 4

- ① The hotel's service was the worst the speaker had ever received.
- ② The hotel's service wasn't so good as the speaker had expected.
- ③ The speaker was greatly satisfied with the hotel's service.
- ④ The speaker wasn't satisfied with the hotel's service.

これで第1問Aは終わりです。

B

第1問Bは問5から問7までの3問です。英語を聞き、それぞれの内容と最もよく合っている絵を、四つの選択肢(①～④)のうちから一つずつ選びなさい。

問5

5

①



②



③




④




問6

6


①




②



③




④



問7 7


①




②



③



④




これで第1問Bは終わりです。

第2問 (配点 16) 音声は2回流れます。


第2問は問8から問11までの4問です。それぞれの問いについて、対話の場面が日本語で書かれています。対話とそれについての問いを聞き、その答えとして最も適切なものを、四つの選択肢(①～④)のうちから一つずつ選びなさい。

問8 教室で友人同士が話をしています。 8


①




②



③



④

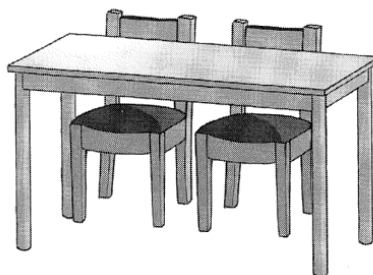


問9 家具店で夫婦が話をしています。 9


①




②



③




④




問10 女性と男性が写真を見ています。 10


①




②




③



④



問11 男性と女性が電話で話をしています。 11



これで第2問は終わりです。

第3問 (配点 18) 音声は1回流れます。

第3問は問12から問17までの6問です。それぞれの問いについて、対話の場面が日本語で書かれています。対話を聞き、問いの答えとして最も適切なものを、四つの選択肢(①～④)のうちから一つずつ選びなさい。(問いの英文は書かれています。)

問12 オフィスで男性が女性と話をしています。

Which is true according to the conversation? 12

- ① Both the man and the woman have a runny nose.
- ② Neither the man nor the woman is suffering from hay fever.
- ③ The man has caught a cold and can't stop coughing.
- ④ The woman thinks she has caught the flu.

問13 大学で友人同士が話をしています。

Which language has the man learned? 13

- ① Danish
- ② Finnish
- ③ German
- ④ Norwegian

問14 男性と女性が電話で話をしています。

What is the woman likely to do? 14

- ① Ask her friend to attend the party
- ② Attend the party by herself
- ③ Attend the party with her friend
- ④ Decide not to attend the party

問15 夫婦が明日の結婚記念日について話をしています。

What do the man and the woman decide to do?

15

- ① Go to "Miguel River" tomorrow
- ② Have dinner at the restaurant they often go to
- ③ Make a reservation at "Round Grill"
- ④ Stay at home tomorrow

問16 パソコンの前でカップルが話をしています。

Why was the man having a problem?

16

- ① He got the password mixed up.
- ② He mistyped his username.
- ③ He remembered Lucy's birthday incorrectly.
- ④ He wasn't able to reach the login screen.

問17 父親が娘に話しかけています。

What does the girl think about her new school?

17

- ① She finds it difficult to make new friends.
- ② She has no clubs she wants to join.
- ③ She is fed up with doing homework.
- ④ She wishes her homeroom teacher were a fun person.

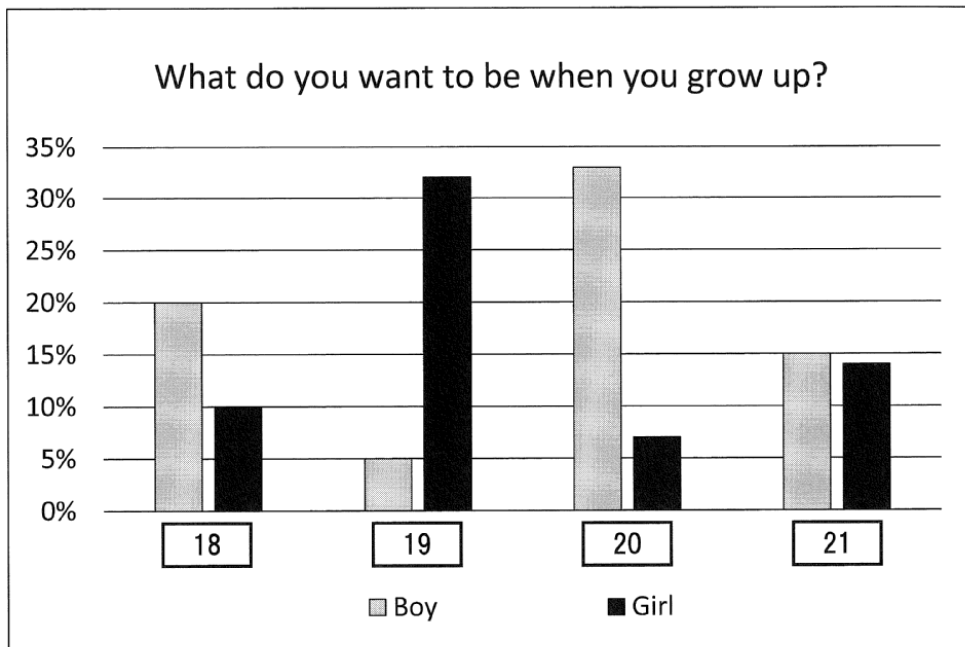
これで第3問は終わりです。

第4問 (配点 12) 音声は1回流れます。

第4問はAとBの二つの部分に分かれています。

A 第4問Aは問18から問25までの8問です。話を聞き、それぞれの問いの答えとして最も適切なものを、選択肢のうちから選びなさい。問題文と図表を読む時間が与えられた後、音声流れます。

問18～21 あなたは、授業で配られたワークシートのグラフを完成させようとしています。説明を聞き、四つの空欄 **18** ～ **21** に入れるのに最も適切なものを、四つの選択肢 (①～④) のうちから一つずつ選びなさい。



- ① Athlete
- ② Doctor
- ③ Police Officer
- ④ Teacher

問22～25 あなたは、ロボットコンテストに参加しています。結果と賞品に関する主催者の話を聞き、次の表の四つの空欄 **22** ～ **25** に入れるのに最も適切なものを、六つの選択肢 (①～⑥) のうちから一つずつ選びなさい。選択肢は2回以上使ってもかまいません。

International Robot Competition: Summary of the Results

Participant	Score	Prize
Anne Thatcher	152.5	22
Michael Wong	124.7	23
Thomas Trump	89.9	24
Yua Maruyama	205.6	25

- ① Digital camera
- ② Medal
- ③ Smartwatch
- ④ Digital camera, Medal
- ⑤ Digital camera, Smartwatch
- ⑥ Medal, Smartwatch

これで第4問Aは終わりです。

B 第4問Bは問26の1問です。話を聞き、示された条件に最も合うものを、四つの選択肢(①～④)のうちから一つ選びなさい。後の表を参考にしてメモを取ってもかまいません。状況と条件を読む時間が与えられた後、音声がかかります。

状況

あなたは、母親に贈る誕生日プレゼントを決めるために、友人や家族の意見を聞いています。

あなたが考えている条件

- A. 価格が50ドル以上100ドル以下であること
- B. 1週間以内に入手できること
- C. オンラインで注文できること

Items	Condition A	Condition B	Condition C
① Accessory			
② Bouquet			
③ Hand Cream			
④ Assortment of Sweets			

問26 “ **26** ” is the item you are most likely to choose.

- ① Accessory
- ② Bouquet
- ③ Hand Cream
- ④ Assortment of Sweets

これで第4問Bは終わりです。

第5問 (配点 15) 音声は1回流れます。

第5問は問27から問33までの7問です。

最初に講義を聞き、問27から問32に答えなさい。次に続きを聞き、問33に答えなさい。状況、ワークシート、問い及び図表を読む時間が与えられた後、音声流れます。

状況

あなたは大学で、日本のバイオームについての講義を、ワークシートにメモを取りながら聞いています。

ワークシート

Biomes in Japan

○What is a Biome?

- the vegetation of an area
- primarily depending on average yearly and amounts of rainfall

○Characteristics of Japan

- rainy and humid
- long from north to south
- significantly different in altitude

○Vertical Distribution of Biomes

Zone	Altitude	Main Tree
low	below 700m	<input type="text" value="28"/> & evergreen
mountain	700 - 1,500m	<input type="text" value="29"/> & summer-green
subalpine	1,500 - 2,500m	needle-leaved & <input type="text" value="30"/>
alpine	above 2,500m	<input type="text" value="31"/> & alpine meadow

問27 ワークシートの空欄 **27** に入れるのに最も適切なものを，四つの選択肢(①～④)のうちから一つ選びなさい。

- ① carbon dioxide ② humidity
③ nutrients ④ temperature

問28～31 ワークシートの空欄 **28** ～ **31** に入れるのに最も適切なものを，六つの選択肢(①～⑥)のうちから一つずつ選びなさい。選択肢は2回以上使ってもかまいません。

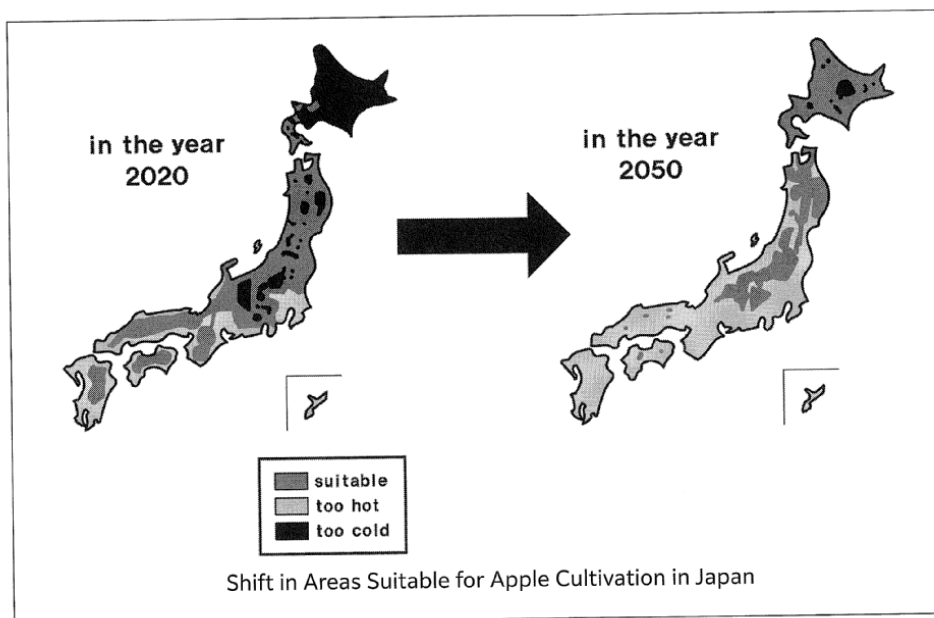
- ① broad-leaved ② evergreen ③ low tree
④ needle-leaved ⑤ summer-green ⑥ young tree

問32 講義の内容と一致するものはどれか。最も適切なものを，四つの選択肢(①～④)のうちから一つ選びなさい。 **32**

- ① A biome is the vegetation of an area and doesn't include animal groups.
② In general, the temperature drops by 6 degrees Celsius with each increase of 100 meters in altitude.
③ The "forest limit" means the upper limit of the "subalpine zone."
④ Though Japan is long from north to south, the horizontal distribution of biomes is rarely found.

第5問はさらに続きます。

問33 グループの発表を聞き、次の図から読み取れる情報と講義全体の内容からどのようなことが言えるか、最も適切なものを、四つの選択肢 (①～④) のうちから一つ選びなさい。 33



- ① By the year 2050, there will be quite a few areas suitable for apple cultivation in Western Japan.
- ② Climatic differences have a significant impact both on vertical distribution and horizontal distribution of biomes.
- ③ Forest biomes in Eastern Japan may become more diverse because of global warming.
- ④ Global warming will lower the “forest limit” and make apple cultivation more difficult.

これで第5問は終わりです。

第6問 (配点 14) 音声は1回流れます。

第6問は A と B の二つの部分に分かれています。

A 第6問Aは問34・問35の2問です。二人の対話を聞き、それぞれの問いの答えとして最も適切なものを、四つの選択肢 (①～④) のうちから一つずつ選びなさい。(問いの英文は書かれています。) 状況と問いを読む時間が与えられた後、音声
が流れます。

状況

Sophia が Bailey とコーヒーについて話をしています。

問34 What is Bailey's main point? **34**

- ① Buying fairtrade products can help improve the situation of producers.
- ② Consumers should change their tendency to seek expensive products.
- ③ Developing countries depend on coffee bean production for much of their income.
- ④ Fairtrade coffee is becoming popular because of its excellent flavor and aroma.

問35 What does Sophia think about fairtrade products? **35**

- ① Fairtrade products are of poor quality despite their high prices.
- ② Fairtrade products can lower the living standards in developing countries.
- ③ Some people avoid buying fairtrade products due to their high prices.
- ④ The certification process of a fairtrade product is too complex.

これで第6問Aは終わりです。

B

第6問Bは問36・問37の2問です。会話を聞き、それぞれの問いの答えとして最も適切なものを、選択肢のうちから一つずつ選びなさい。後の表を参考にしてメモを取ってもかまいません。状況と問いを読む時間が与えられた後、音声がかかります。

状況

四人の学生 (Mike, Nobuko, Boris, Kate) が、昆虫食について話し合っています。

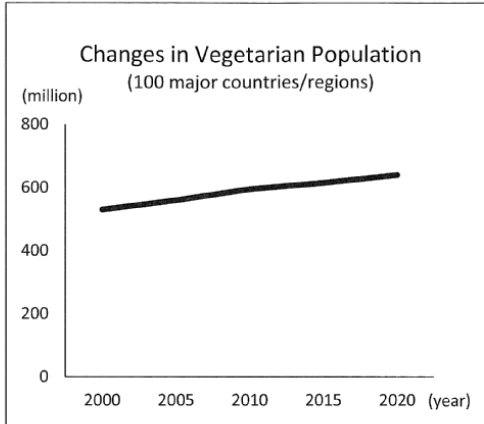
Mike	
Nobuko	
Boris	
Kate	

問36 会話が終わった時点で、昆虫食を肯定している人を、四つの選択肢 (①～④) のうちから一つ選びなさい。 **36**

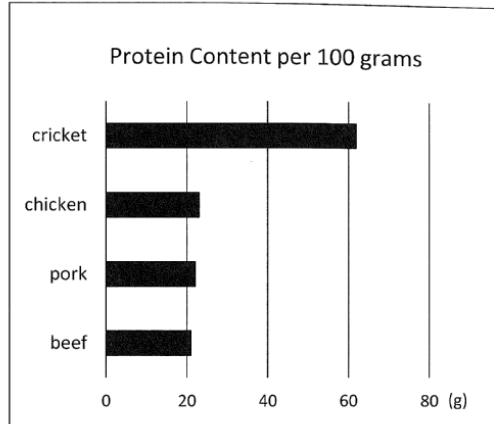
- ① Nobuko
- ② Kate, Nobuko
- ③ Mike, Nobuko
- ④ Boris, Mike, Nobuko

問37 会話を踏まえて、Nobuko の発言の根拠となる図表を、四つの選択肢 (①～④) のうちから一つ選びなさい。 **37**

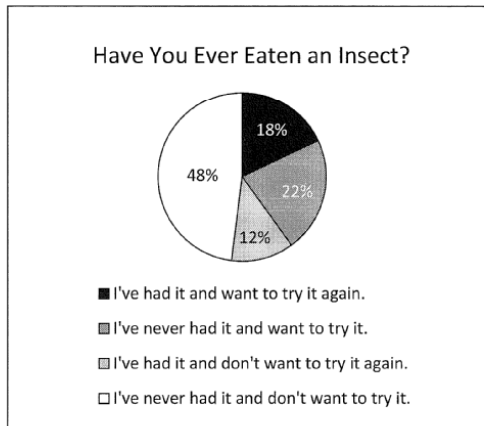
①



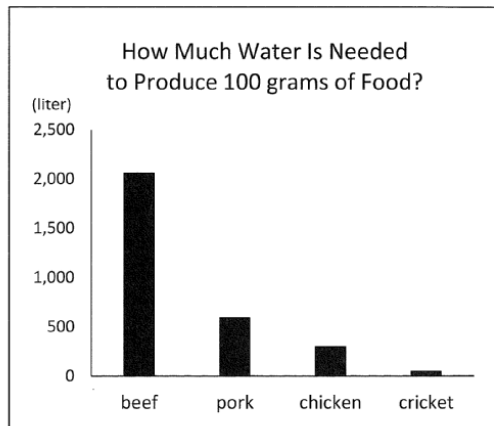
②



③



④



これで第6問Bは終わりです。

リスニング・第2回

解答と解説

問題番号 (配点)	設問	解答番号	正解	配点	自採	己点
第1問 (25)	A	1	1	4	4	
		2	2	2	4	
		3	3	4	4	
		4	4	3	4	
	B	5	5	1	3	
		6	6	4	3	
		7	7	1	3	
自己採点小計						
第2問 (16)	8	8	3	4		
	9	9	3	4		
	10	10	1	4		
	11	11	2	4		
自己採点小計						
第3問 (18)	12	12	1	3		
	13	13	3	3		
	14	14	4	3		
	15	15	4	3		
	16	16	1	3		
	17	17	3	3		
自己採点小計						

問題番号 (配点)	設問	解答番号	正解	配点	自採	己点
第4問 (12)	A	18	18	1	4*	
		19	19	4		
		20	20	3		
		21	21	2		
		22	22	4	1	
		23	23	4	1	
		24	24	2	1	
	B	25	25	6	1	
	B	26	26	3	4	
	自己採点小計					
第5問 (15)	27	27	4	3		
	28	28	1	4*		
	29	29	1			
	30	30	2			
	31	31	3			
	32	32	3	4		
33	33	2	4			
自己採点小計						
第6問 (14)	A	34	34	1	3	
		35	35	3	3	
	B	36	36	4	4	
		37	37	4	4	
自己採点小計						

(注)

*は、全部正解の場合のみ点を与える。

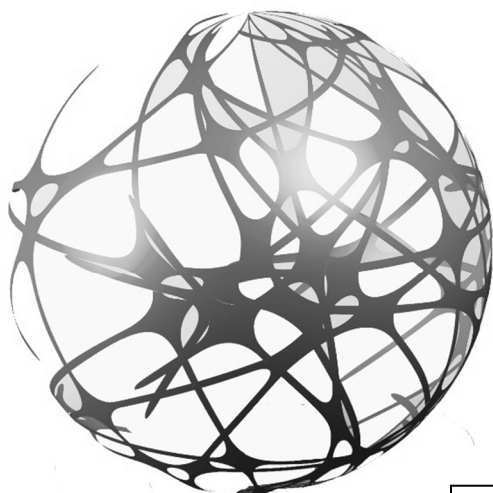
自己採点合計

<MEMO>



English 英語

Forward 将来に
individual 個人
training 訓練



名 前