


---


# 実戦演習

高3 英語リスニング 第3回

---



English 英語



# 英 語 (リスニング)

( 解答番号  ~  )

## 第1問 (配点 25) 音声は2回流れます。

第1問は **A** と **B** の二つの部分に分かれています。

**A** 第1問**A**は問1から問4までの4問です。英語を聞き、それぞれの内容と最もよく合っているものを、四つの選択肢(①~④)のうちから一つずつ選びなさい。

問1

- ① Mike is shorter than Kevin and the speaker.
- ② Mike is taller than Kevin and the speaker.
- ③ The speaker is shorter than Mike and Kevin.
- ④ The speaker is taller than Mike and Kevin.

問2

- ① The speaker didn't expect to pass the math exam.
- ② The speaker didn't make any effort to pass the exams.
- ③ The speaker succeeded in all the exams except math.
- ④ The speaker was able to pass the math exam.

問3

3

- ① The speaker forgot to close the window.
- ② The speaker is asking Jennie to open the window.
- ③ The speaker wants to let in cool air.
- ④ The speaker will turn on the air conditioner.

問4

4

- ① Meg has her birthday on October 19th.
- ② Meg's birthday is October 5th.
- ③ The speaker has her birthday on October 12th.
- ④ The speaker's birthday is October 19th.

これで第1問Aは終わりです。

**B**

第1問Bは問5から問7までの3問です。英語を聞き、それぞれの内容と最もよく合っている絵を、四つの選択肢(①~④)のうちから一つずつ選びなさい。


問5

5

①



②



③




④




問6

6


①




②







③



④



問7 7

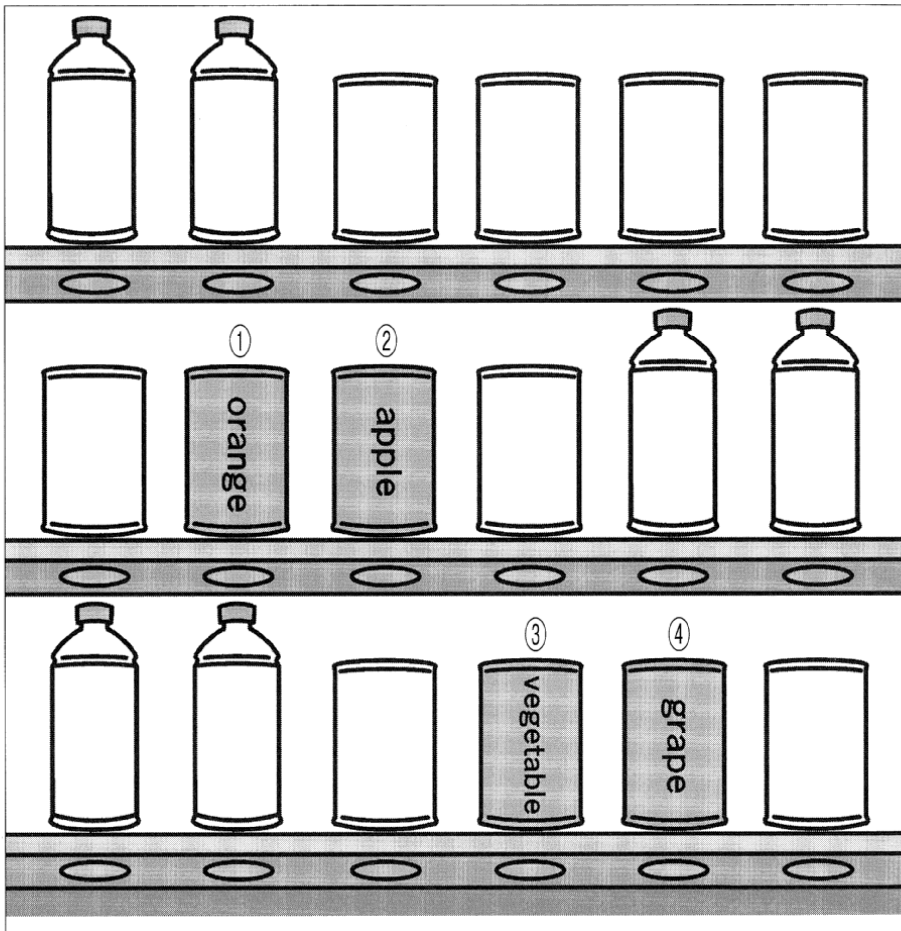


これで第1問Bは終わりです。





第2問 (配点 16) 音声は2回流れます。

第2問は問8から問11までの4問です。それぞれの問いについて、対話の場面が日本語で書かれています。対話とそれについての問いを聞き、その答えとして最も適切なものを、四つの選択肢(①~④)のうちから一つずつ選びなさい。

問8 自動販売機の前で、父親と娘が話をしています。 8







問9 レストランで、女性店員と男性客が話をしています。 9

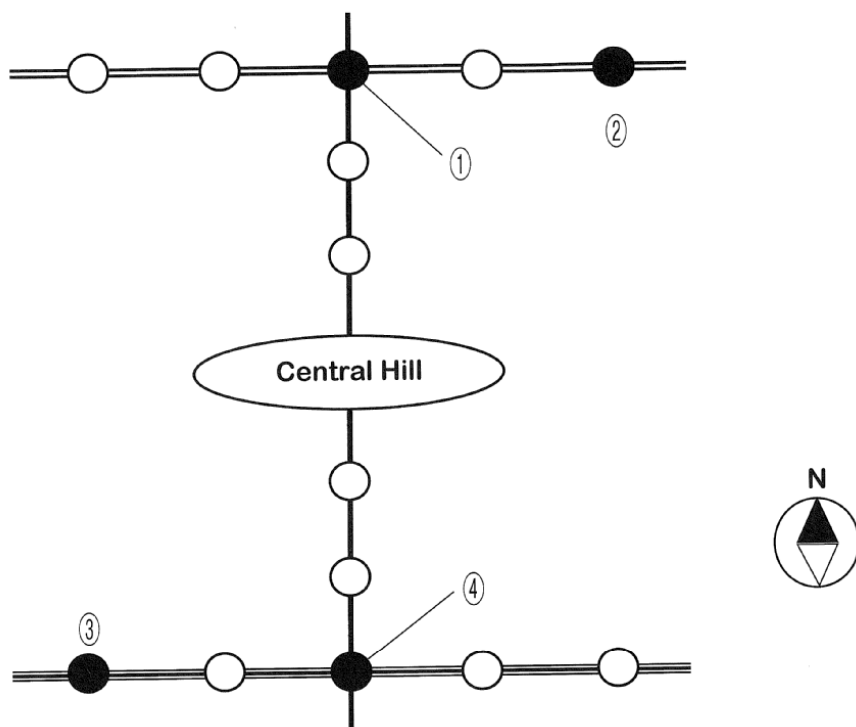




問10 友人同士が話をしています。 10



問11 路線図を見ながら、男性と女性が話をしています。 11



これで第2問は終わりです。

第3問 (配点 18) 音声は1回流れます。

第3問は問12から問17までの6問です。それぞれの問いについて、対話の場面が日本語で書かれています。対話を聞き、問いの答えとして最も適切なものを、四つの選択肢(①～④)のうちから一つずつ選びなさい。(問いの英文は書かれています。)

問12 同僚同士が、休暇明けに話をしています。

Which is true according to the conversation?

12

- ① The woman doesn't have a younger sister.
- ② The woman has an older brother.
- ③ The woman's father likes to take pictures.
- ④ The woman's mother is away on a business trip.

問13 娘と父親が、夕食について話し合っています。

What will the girl do?

13

- ① Bake an apple pie
- ② Buy some apples
- ③ Grill the meat
- ④ Make a salad

問14 男性と女性が、レストランで話をしています。

What will they do?

14

- ① The man will pay \$50 and the woman will pay \$5.
- ② The man will pay \$30 and the woman will pay \$25.
- ③ The man will pay \$25 and the woman will pay \$30.
- ④ The man will pay \$5 and the woman will pay \$50.

問15 男性と女性が、待ち合わせ場所で話をしています。

**What is true about the man and the woman?**

15

- ① The man took a bus instead of a train.
- ② The woman had to wait for thirty minutes.
- ③ They promised to meet in front of the stadium.
- ④ They will go to the live concert together.

問16 夫婦が、自宅で話をしています。

**What will the man do right after the conversation?**

16

- ① Attend the online meeting at home
- ② Drive the woman to the dentist
- ③ Make an appointment at the dentist
- ④ Pass the time in a café with the woman

問17 高校生同士が、昼休みに話をしています。

**What is the girl going to do?**

17

- ① Buy some sandwiches
- ② Eat nothing for lunch
- ③ Get a banana from the boy
- ④ Go to the cafeteria

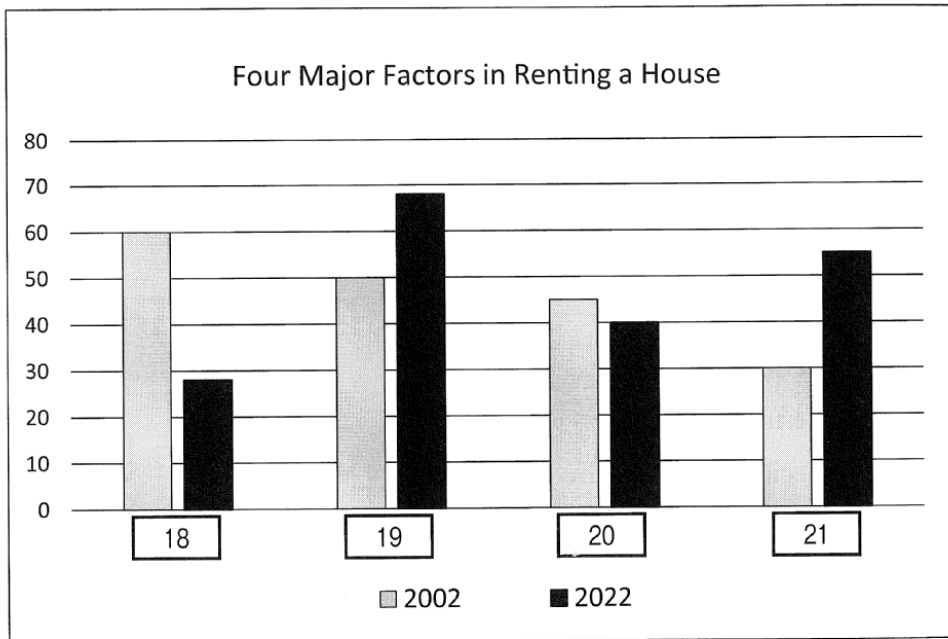
これで第3問は終わりです。

第4問 (配点 12) 音声は1回流れます。

第4問はAとBの二つの部分に分かれています。

**A** 第4問Aは問18から問25までの8問です。話を聞き、それぞれの問いの答えとして最も適切なものを、選択肢のうちから選びなさい。問題文と図表を読む時間が与えられた後、音声の流れます。

問18~21 あなたは、大学の授業で配られたワークシートのグラフを完成させようとしています。先生の説明を聞き、四つの空欄 **18** ~ **21** に入れるのに最も適切なものを、四つの選択肢①~④のうちから一つずつ選びなさい。



- ① Distance to railroad station
- ② Distance to supermarket
- ③ Floor plan
- ④ Rent

問22～25 あなたはピアノのコンクールに参加しています。結果と賞品に関する主催者の話を聞き、次の表の四つの空欄  ～  に入れるのに最も適切なものを、六つの選択肢(①～⑥)のうちから一つずつ選びなさい。選択肢は2回以上使ってもかまいません。

### Hamaya International Piano Competition: Finalists' Results

Finalist	Expression Score	Technical Score	Final Rank	Prize
Karsten Walter	87	97	3rd	<input type="text" value="22"/>
Michael Rivas	95	93	1st	<input type="text" value="23"/>
Nobuko Davis	89	94	4th	<input type="text" value="24"/>
Yui Narusawa	91	96	2nd	<input type="text" value="25"/>

- ① Certificate
- ② Medal
- ③ Recital Ticket
- ④ Certificate, Medal
- ⑤ Certificate, Trophy
- ⑥ Recital Ticket, Trophy

これで第4問Aは終わりです。

**B**

第4問Bは問26の1問です。話を聞き、示された条件に最も合うものを、四つの選択肢(①～④)のうちから一つ選びなさい。後の表を参考にしてメモを取ってもかまいません。状況と条件を読む時間が与えられた後、音声流れます。

状況

あなたは、夏休みの旅行先を一つ決めるために、四人の友人の説明を聞いています。

あなたが考えている条件

- A. 公共交通機関でアクセスしやすいこと
- B. 歴史的な遺産が近辺にあること
- C. 自然が豊かであること

Destinations	Condition A	Condition B	Condition C
① Coneberry			
② Endoll			
③ Goodland			
④ Rosehill			

問26 26 is the destination you are most likely to choose.

- ① Coneberry
- ② Endoll
- ③ Goodland
- ④ Rosehill

これで第4問Bは終わりです。

第5問 (配点 15) 音声は1回流れます。

第5問は問27から問33までの7問です。

最初に講義を聞き、問27から問32に答えなさい。次に続きを聞き、問33に答えなさい。状況、ワークシート、問い及び図表を読む時間が与えられた後、音声流れます。

状況

あなたはアメリカの大学で、単身世帯の動向に関する講義を、ワークシートにメモを取りながら聞いています。

ワークシート

**Trend of One-Person Households**

◇ **Global Trend**

- ・ More and more people live alone.
- ・  has the lower rate of one-person households  
than other Western countries.
- ・ One-person household rates are also increasing  
in China, India and Brazil.

◇ **Background of the Trend**

- ・  is playing a bigger role than .
- ・ Living alone is no longer associated with .
- ・ We are able to have  more freely than ever.



問27 ワークシートの空欄  に入れるのに最も適切なものを、五つの選択肢  
(①～⑤)のうちから一つ選びなさい。


- ① France
- ② Germany
- ③ Sweden
- ④ The United Kingdom
- ⑤ The United States

問28～31 ワークシートの空欄  ～  に入れるのに最も適切なものを、  
六つの選択肢(①～⑥)のうちから一つずつ選びなさい。文頭に来る語も小文字で  
示してある。

- ① communication
- ② culture
- ③ economy
- ④ individualism
- ⑤ isolation
- ⑥ self-reliance

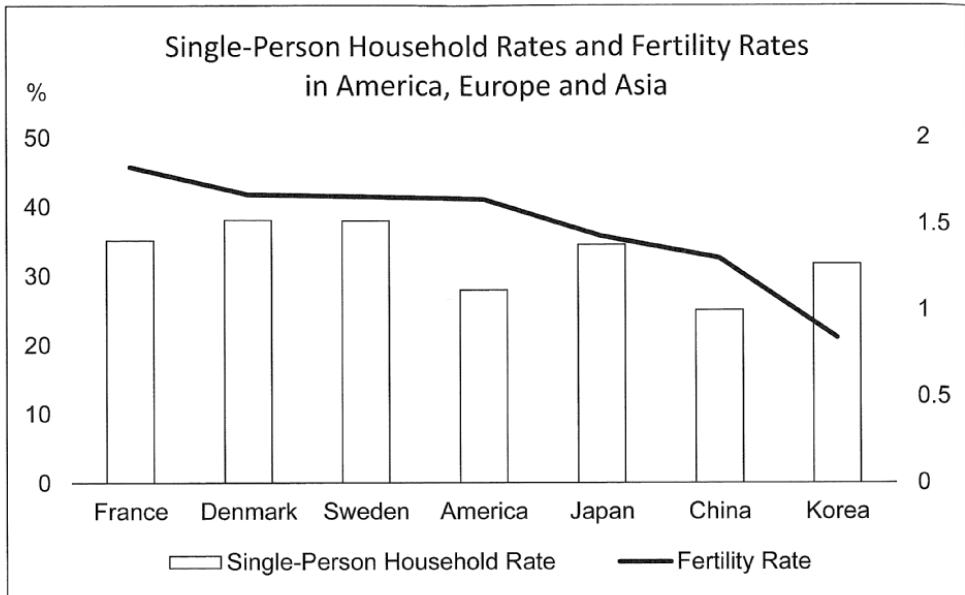
問32 講義の内容と一致するものはどれか。最も適切なものを、四つの選択肢  
(①～④)のうちから一つ選びなさい。

- ① As the number of single-person households increases, human nature as a group-oriented animal is changing.
- ② Living alone is less lonely than it once was, but it still means less social contact with other people.
- ③ Thanks to globalization and technology, it is possible for us to live alone and have more social contact.
- ④ The increase in the number of single-person households is a phenomenon observed mainly in Western countries.



第5問はさらに続きます。

問33 グループの発表を聞き、次の図から読み取れる情報と講義全体の内容からどのようなことが言えるか、最も適切なものを、四つの選択肢(①~④)のうちから一つ選びなさい。 33



- ① Countries with a low percentage of single-person households generally do not face declining fertility problems.
- ② In general, the higher the percentage of single-person households is, the lower the fertility rate is.
- ③ It seems that there is no correlation between the rate of single-person households and the fertility rate.
- ④ The increase in the percentage of single-person households is considered to be a consequence of the declining birthrate.

これで第5問は終わりです。

第6問 (配点 14) 音声は1回流れます。

第6問はAとBの二つの部分に分かれています。

**A** 第6問Aは問34・問35の2問です。二人の対話を聞き、それぞれの問いの答えとして最も適切なものを、四つの選択肢(①～④)のうちから一つずつ選びなさい。(問いの英文は書かれています。) 状況と問いを読む時間が与えられた後、音声の流れます。

状況

Matthew が Akina とマスクの使用について話をしています。

問34 **What is Matthew's main point?** 34

- ① The increase of CO<sub>2</sub> in the air makes it easier for bacteria to grow.
- ② There are some disadvantages to wearing a mask continuously.
- ③ We must be careful not to breathe through our mouth.
- ④ Wearing a mask is effective in preventing headaches.

問35 **Which statement would Akina agree with the most?** 35

- ① Aging increases the risk of blood vessel expansion in the brain.
- ② Headaches are more serious than stiff necks and earaches.
- ③ The effectiveness of masks in preventing infection can't be ignored.
- ④ Wearing a mask every day will improve our health in the long run.

これで第6問Aは終わりです。

**B** 第6問Bは問36・問37の2問です。会話を聞き、それぞれの問いの答えとして最も適切なものを、選択肢のうちから一つずつ選びなさい。後の表を参考にしてメモを取ってもかまいません。状況と問いを読む時間が与えられた後、音声がかかります。

状況

日本に住んでいる四人の学生（Miki, Steve, Irene, Viktor）が話をしています。

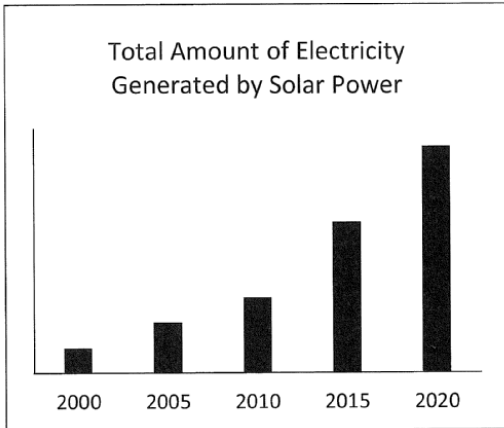
Miki	
Steve	
Irene	
Viktor	

問36 出身国の自宅において太陽光発電を導入する可能性が低い人の組み合わせを、四つの選択肢①～④のうちから一つ選びなさい。 36

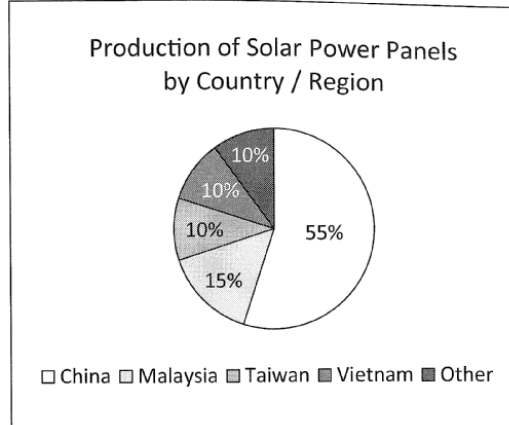
- ① Miki, Irene
- ② Miki, Viktor
- ③ Steve, Irene
- ④ Steve, Viktor

問37 会話を踏まえて、Viktor の考えの根拠となる図表を、四つの選択肢(①~④)のうちから一つ選びなさい。 37

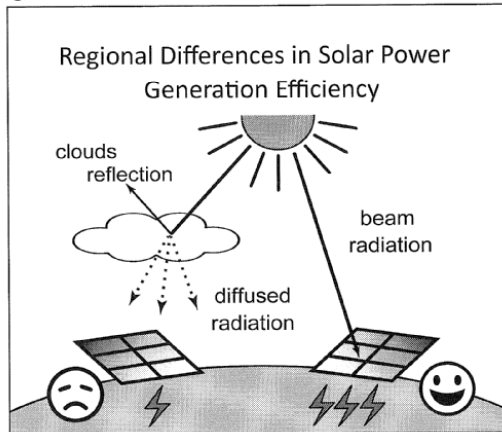
①



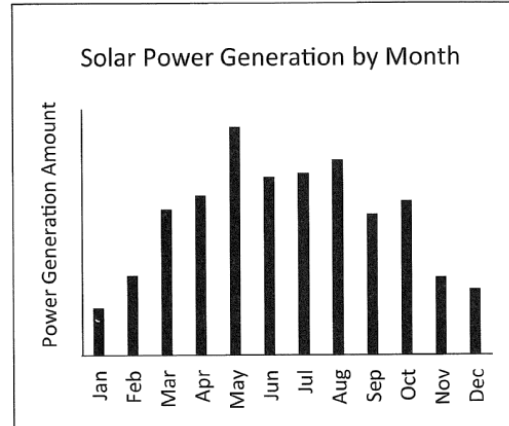
②



③



④



これで第6問Bは終わりです。

問題 番号 (配点)	設 問	解答番号	正 解	配 点	自採 己点
第1問 (25)	A	1	1	4	
		2	4	4	
		3	3	4	
		4	4	4	
	B	5	2	3	
		6	3	3	
		7	1	3	
自己採点小計					
第2問 (16)	8	8	1	4	
	9	9	2	4	
	10	10	1	4	
	11	11	4	4	
自己採点小計					
第3問 (18)	12	12	1	3	
	13	13	2	3	
	14	14	3	3	
	15	15	2	3	
	16	16	2	3	
	17	17	2	3	
自己採点小計					

問題 番号 (配点)	設 問	解答番号	正 解	配 点	自採 己点
第4問 (12)	A	18	1	4*	
		19	4		
		20	3		
		21	2		
		22	2	1	
		23	5	1	
		24	3	1	
	B	25	4	1	
		26	1	4	
		自己採点小計			
第5問 (15)	27	5	3		
	28	3	2*		
	29	2			
	30	5	2*		
	31	1			
	32	3		4	
33	3	4			
自己採点小計					
第6問 (14)	A	34	2	3	
		35	3	3	
	B	36	4	4	
		37	3	4	
自己採点小計					

自己採点合計

(注)

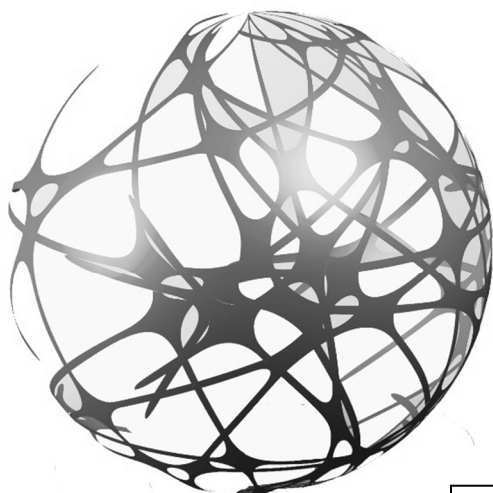
\*は、全部正解の場合のみ点を与える。

<MEMO>



# English 英語

**F**orward 将来に  
**i**ndividual 個人  
**t**raining 訓練



名 前